



اختبار تشخيصي طلبة الصف الرابع قياس الفاقد التعليمي



الاسم الرباعي :

المحصلة	١٠٠

سلم التقييم	متميز	جيد	مقبول
-------------	-------	-----	-------


ملاحظات المعلم

.....



المعلم عمر حسن إبراهيم عطالله
مادة الدراسات الاجتماعية

الدراسات الاجتماعية



ALhayer





- عزيزي الطالب المجتهد من خلال التمعن في الصورة التالية حدد موقع كل من
- (١) الخروف يقع في جهة
 - (٢) الكرة تقع في جهة الجنوب
 - (٣) الشجرة تقع في جهة


فكر تمعن وازن ثم أجب ؟

كم عدد الجات الأصلية وعدد الجهات الفرعية؟

فكر تمعن وازن ثم أجب ؟


أكمل العبارات الناقصة في النص (الجهة التي تقع بين الشمال والغرب تعرف بجهة الشمال والجهة بين الجنوب والشرق تعرف بجهة الشرقي)

تقييم	متميز	متواضع	يحتاج التعديل
-------	-------	--------	---------------



استراتيجية البركة

ساعد الصقر على اصطياد الخرائط من البركة من خلال مد خط بين الصقر والخريطة



مهارة قراءة الخريطة

ضع دائرة على :
مفتاح الخريطة
الاطار
العنوان



يحتاج التعديل

متواضع

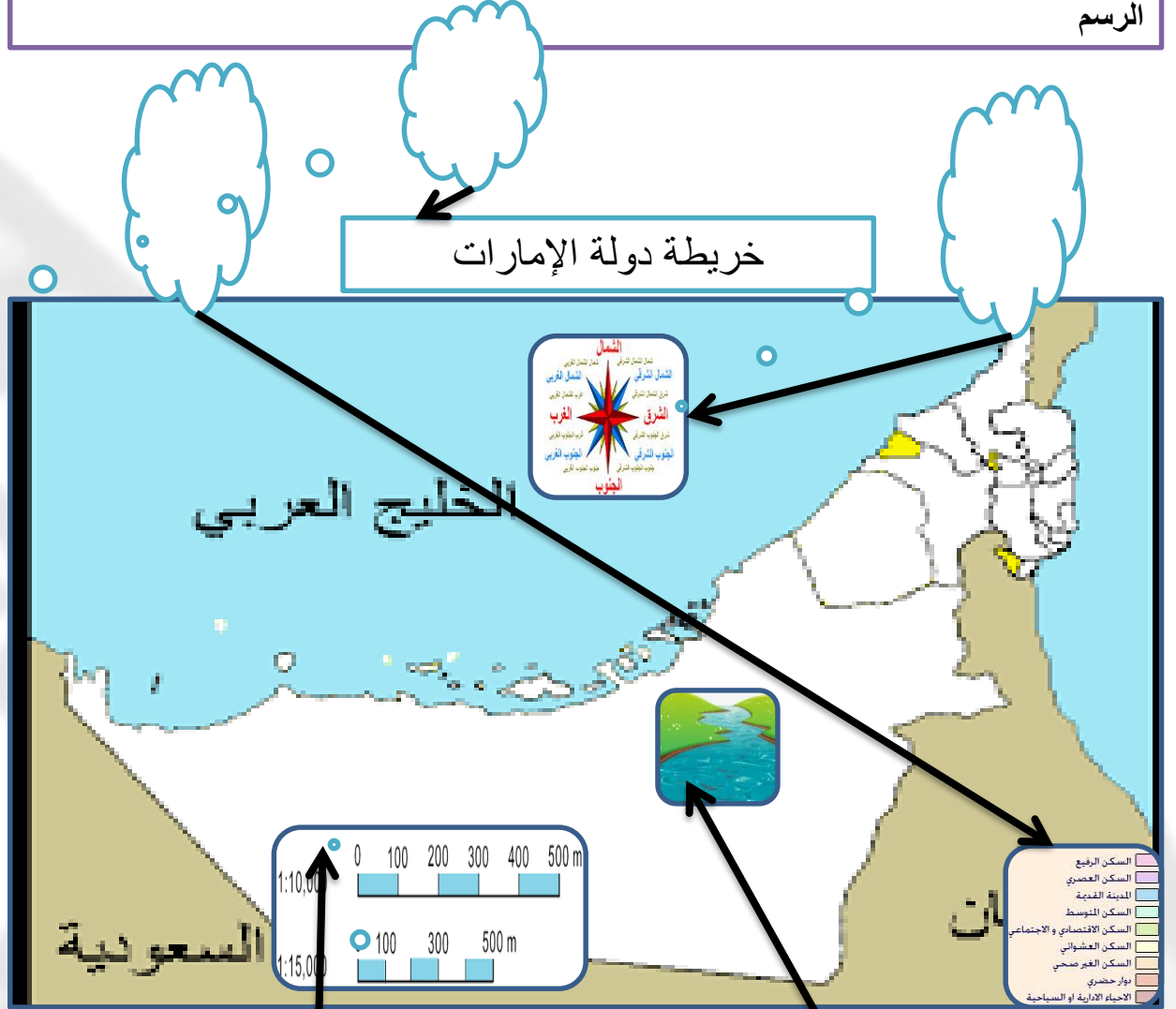
متميز

تقييم



الهدف العام : التعرف على عناصر الخريطة ؟

السؤال : على خريطة الإمارات عين عناصر الخريطة (العنوان - المفتاح - الاتجاهات - مقياس الرسم



تقييم	متميز	متواضع	يحتاج التعديل
-------	-------	--------	---------------



الهدف العام : التعرف على خصائص الصحراء ؟

السؤال : أستخلص من الصور خصائص الصحراء (



--	--	--	--

السؤال الثاني : أستكمل النواقص في التعريف البالي من خلال الكلمات المساندة التالية (جافة - النبات - الرياح - هناك)

الصحراء : هي عبارة عن أرض قليلة المطر وقليلة
الكثبان الرملية : هي كتل من الرمال تحركها ثم تلقيها هنا و.....

السؤال الثالث : أي صورة التالية تدل على الكثبان الرملية



السؤال الرابع : استخرج من مقولة الشيخ زايد رحمه الله قيمة سلوكية « لقد علمتني الصحراء أن نصبر طويلاً »

--

السؤال الخامس للصحراء فوائد كثيرة أستخلص من الصور فوائدها (..... و.....)



.....

تقييم	متميز	متواضع	يحتاج التعديل
-------	-------	--------	---------------



النشاط الأول : ضع دائرة على الجبال في الصورة ثم لون الصورة السابقة



النشاط الثاني : اكتب الكلمة المناسبة تحت الصورة ؟ الأمطار - الجبل - الرعي



عمر

النشاط الثالث : ضع دائرة على الجبال في الخريطة التالية



ما هو لون الجبال في الخريطة

.....

عمر

يحتاج التعديل

متواضع

متميز

تقييم

Omar atallah

